

Teils bondio cofalent

Amcanion dysgu

- 1 Lluniadu diagramau dot a chroes ar gyfer moleciwlau cofalent syml
- 2 Adnabod bondiau cofalent sengl, dwbl a thriphlyg

Cyfarwyddiadau i athrawon

Mae'r adnodd hwn yn cynnwys dalen o deils bondio cofalent y gellir eu hargraffu a'u torri'n deils unigol i helpu'r dysgwyr wrth gyflwyno bondio cofalent. Mae'r electronau wedi cael eu codio gyda dotiau a chroesau lliw er mwyn helpu'r dysgwyr i adnabod bondiau sengl, dwbl a thriphlyg. Er mwyn osgoi camsyniadau, bydd angen atgoffa'r dysgwyr, er bod symbolau gwahanol yn cael eu defnyddio, eu bod i gyd yn cynrychioli un electron ym mhlisgyn allanol yr atom.

Tasg 1: Adeiladu bondiau

Yn y dasg hon, bydd y dysgwyr yn ymgyswyo â'r teils yn yr adnodd ac yn ymarfer eu trefnu i wneud moleciwlau cofalent syml. Mae'r dasg hon yn fwrriadol benagored ac mae llawer o drefniannau posibl ar gyfer pob un o gamau'r dasg. Bydd y dysgwyr yn dod i arfer â dod o hyd i'r teils cywir i gwblhau pob bond a threfniannau'r teils y bydd angen eu gosod ar ongl weithiau.

Tasg 2: Moleciwlau cofalent syml

Yn y dasg hon, bydd y dysgwyr yn adeiladu moleciwlau penodol ar sail eu fformiwla gemegol. Yn achos moleciwlau sy'n cynnwys ocsigen, carbon a nitrogen, bydd angen i'r dysgwyr ddewis y deilsen gywir i ddangos bondiau sengl, dwbl neu driphlyg yn ôl yr angen.

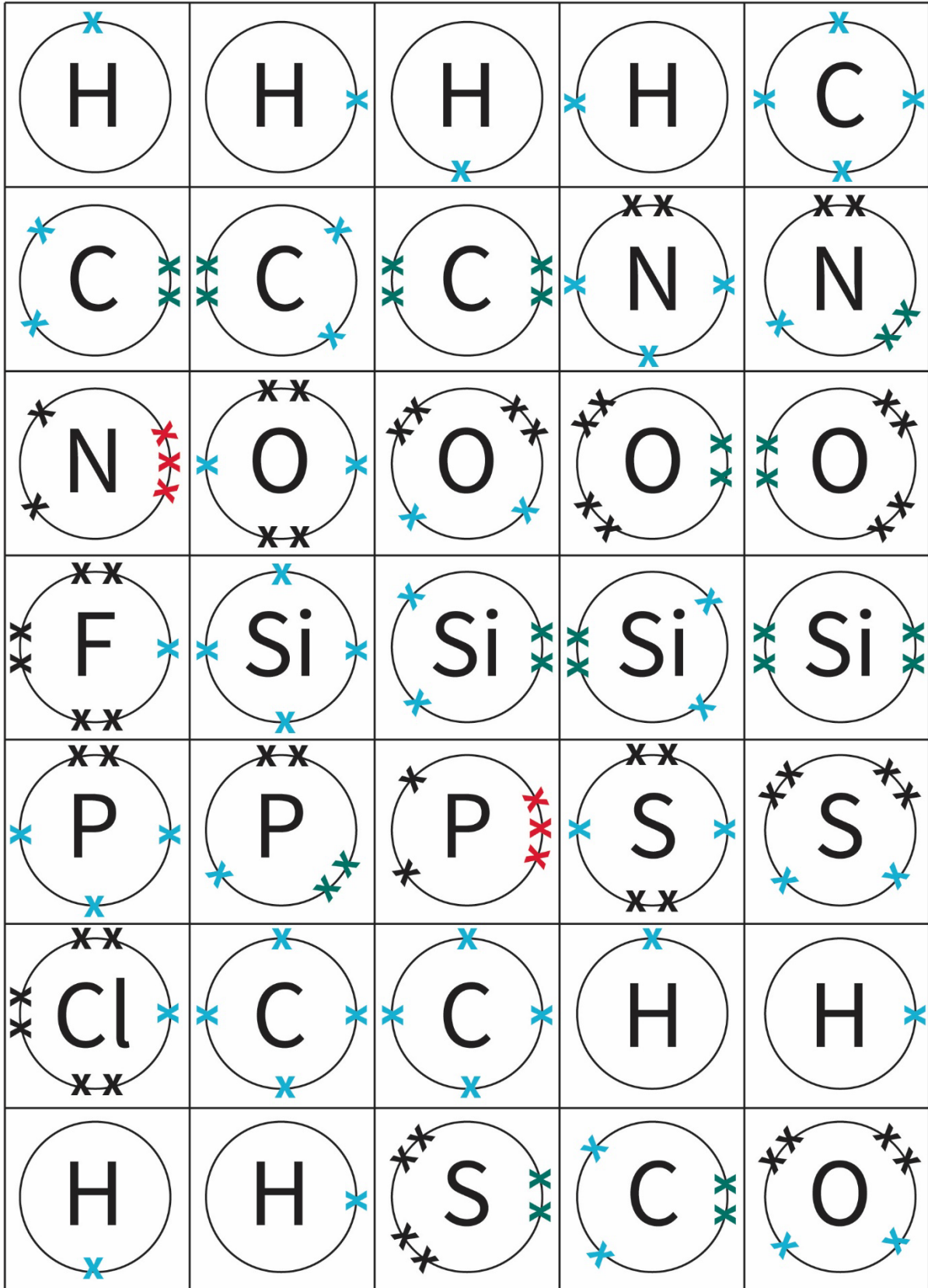
Tasg 3: Hydrocarbonau

Yn y dasg hon, bydd y dysgwyr yn defnyddio'r teils i archwilio patrymau yn y gyfres homologaidd o alcanau ac alcenau. Dylai'r dysgwyr eisoes fod yn gyfarwydd â defnyddio'r adnodd (mae'r gwahanol gamau yn nhasg 1 yn helpu i archwilio hyn) cyn cymhwyso'r teils i gysyniadau cemeg. Gellir defnyddio'r teils i ddangos y fformiwla cyffredinol ar gyfer yr alcanau a'r alcenau.

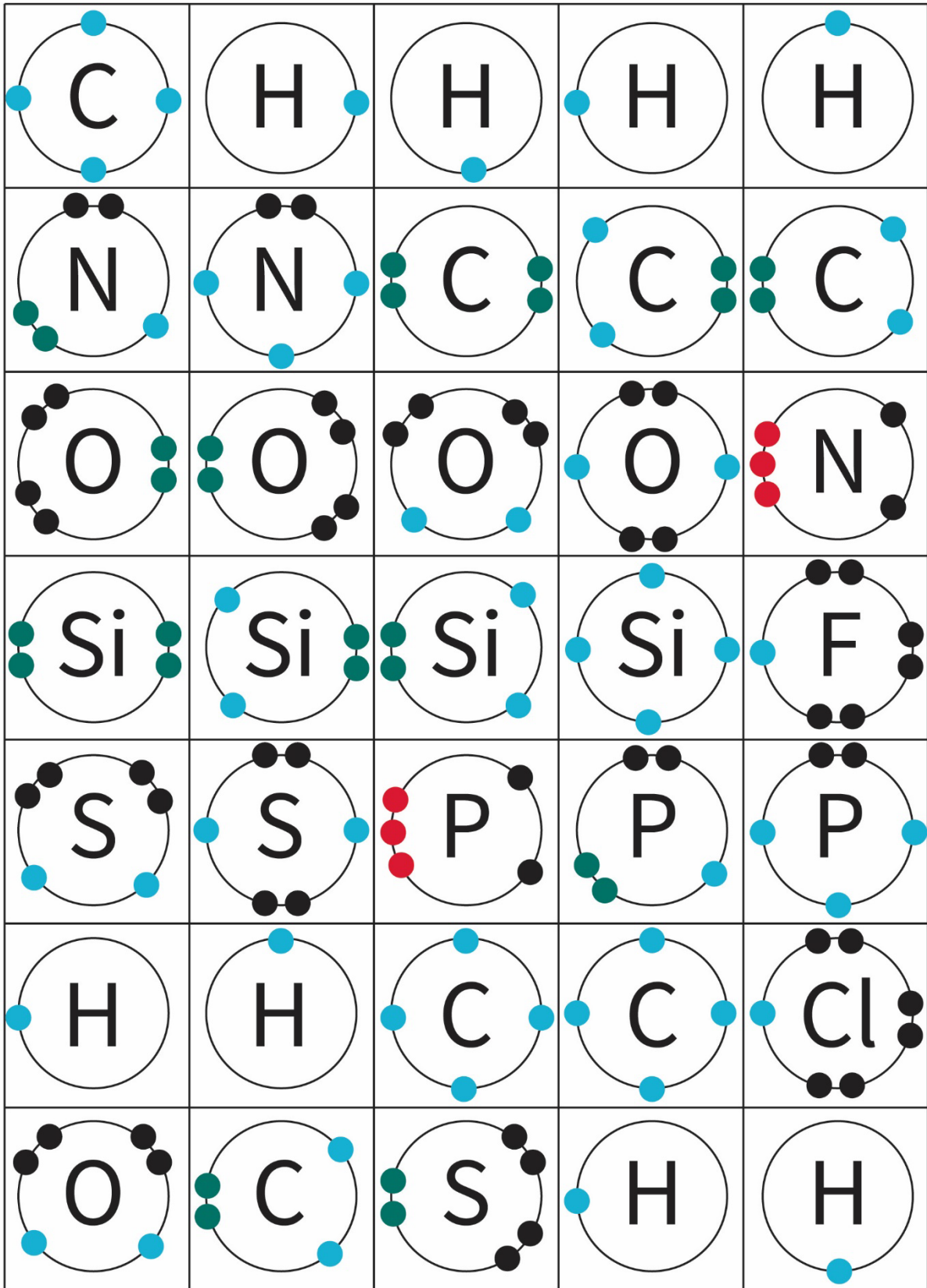
Tasg 4: Polymeru

Yn y dasg olaf hon, gofynnir i'r dysgwyr greu animeiddiad stop-symudiad neu GIF i ddangos y broses polymeru. Bydd angen iddynt ddefnyddio creadigrwydd a gwybodaeth gadarn am adeiledd a bondio i gynhyrchu eu hanimeiddiad.

Teils croes bondio cofalent



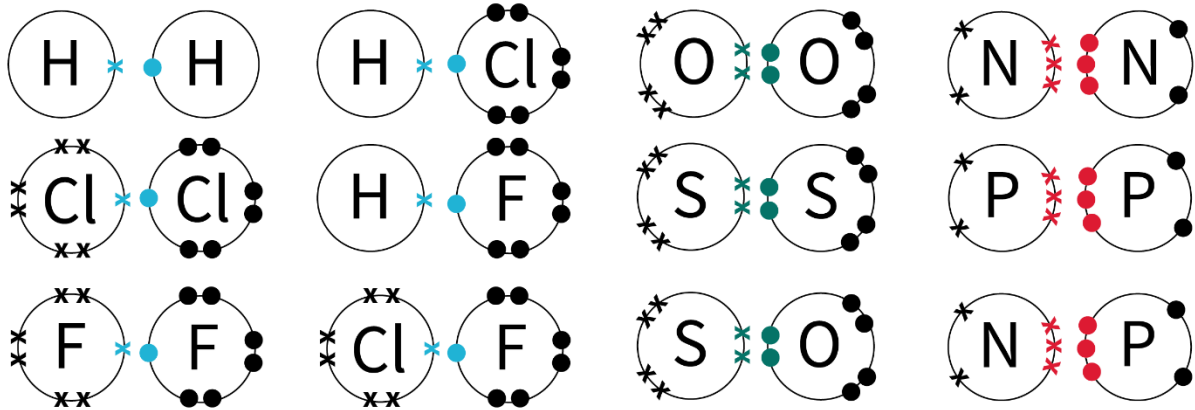
Teils dot bondio cofalent



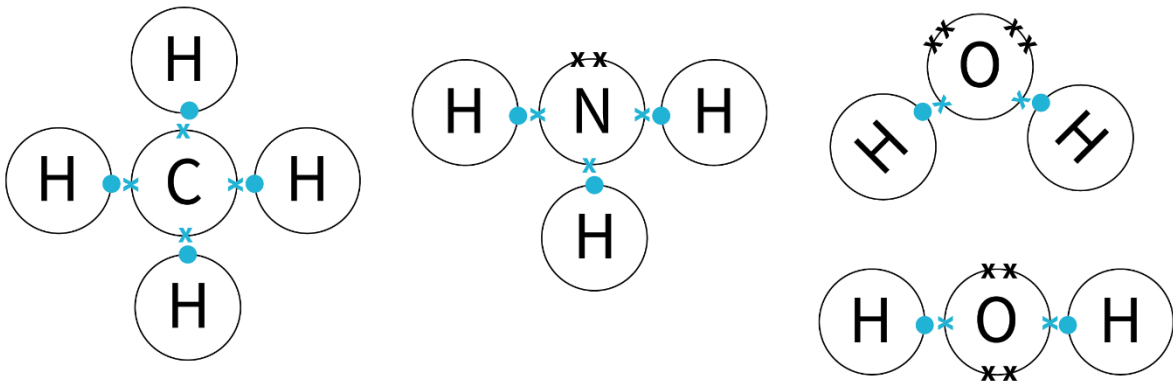
Atebion

Tasg 1: Adeiladu bondiau

1. Efallai y bydd gan y dysgwyr rai neu'r cyfan o'r cyfuniadau canlynol o deils:



2. Efallai y bydd y dysgwyr wedi cydosod rhai neu'r cyfan o'r moleciwlau cofalent syml canlynol:



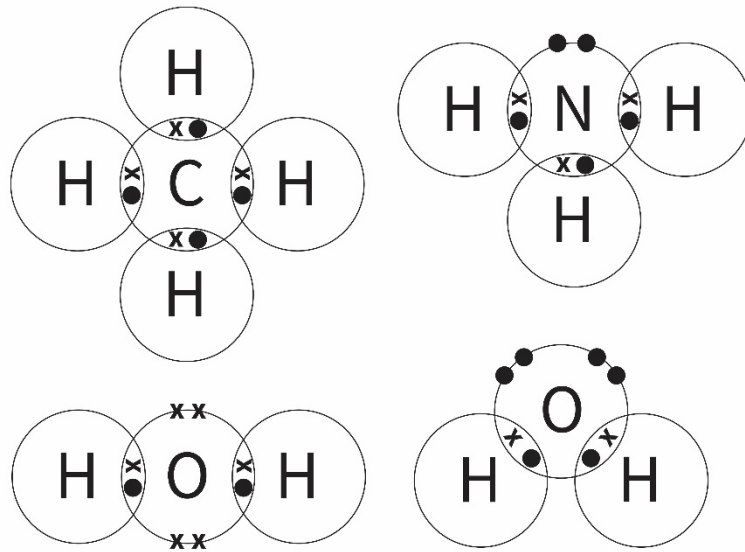
(a) Beth sy'n wahanol:

- Mae'r moleciwlau hyn i gyd yn fwy
- Dim ond bondiau cofalent sengl maent yn eu cynnwys
- Mae siâp pob un yn wahanol

(b) Mae'r ddwy deilsen ocsigen yno er mwyn gallu trefnu adeileddau a siapiau gwahanol. Mae gan y ddwy deilsen ocsigen 2 fond cofalent sengl ond mewn un mae'r bondiau'n gyfagos ac yn y llall mae'r bondiau gyferbyn â'i gilydd.

(c) CH₄, NH₃, H₂O

(d)



3.

- (a) O_2 yw'r moleciwl lleiaf gallwch ei wneud oherwydd ei fod ond yn cynnwys dim ond dau atom.
- (b) Mae llawer o gyfuniadau posibl o dair teilsen. Dylai'r holl ddysgwyr allu trefnu 5–8 o foleciwlau gwahanol, bydd llawer yn gallu trefnu 8–10 o foleciwlau a bydd rhai yn trefnu 10–16 o foleciwlau. Dyma rai enghreifftiau: CO_2 , SiO_2 , CS_2 , SiS_2 , NOH , POH , HNS , HPS , $PSCI$, PSF , $POCl$, POF , $NOCl$, NOF , $NsCl$ a NSF .
- (c) Mae modd trefnu llawer iawn o foleciwlau gyda phedair teilsen. Heriwch y dysgwyr i drefnu 10 neu fwy o gyfuniadau o deils.
Dyma rai enghreifftiau: H_2CO , COF_2 , Cl_2CO , $CsCl_2$, CF_2S , CH_2S , C_2O_2 , O_2Si_2 , H_2SiO , $SiOF_2$, Cl_2SiO , $SiSCL_2$, SiF_2S a SiH_2S .

Her

Mae hyn yn benagored a gallech gael unrhyw nifer o gyfuniadau o foleciwlau rhyfedd a rhyfeddol. Gan ddibynnu ar ddiddordeb a gallu eich grŵp, gallech arwain y dysgwyr i adeiladu hydrocarbonau mawr, yn enwedig os ydych chi eisiau iddynt allu enwi eu moleciwl yn rhan (c).

- (a) Bydd hyn yn dibynnu ar yr adeiledd maent wedi'i drefnu gyda'u teils.
Awgrym: Gofynnwch i'r dysgwyr dynnu ffotograff o'r teils cyn iddynt geisio lluniadu eu diagram dot a chroes. Bydd hyn yn osgoi unrhyw broblemau a allai ddigwydd oherwydd bod y teils yn symud wrth iddynt luniadu a bydd yn rhoi rhywbeth iddynt gymharu ag ef ar ôl rhoi'r teils i gadw.
- (b) Y ffordd symlaf o ysgrifennu fformiwla yw cyfrif nifer yr atomau o bob elfen. Er mwyn herio'r disgyblion ymhellach, gofynnwch iddynt sut roeddent wedi penderfynu pa elfen i'w hysgrifennu'n gyntaf.
Gweithgaredd estyn: Gallech sôn wrth y dysgwyr am 'system Hill' o drefnu'r elfennau o fewn fformiwlaŵ cemegol. Er mwyn mynd â hyn ymhellach, gallech gyflwyno fformiwlaŵ cryno sy'n rhoi hyd yn oed rhagor o wybodaeth am adeiledd y moleciwl.

(c) Os bydd y dysgwyr wedi adeiladu moleciwl 'go iawn' dylent allu chwilio ar-lein drwy ddefnyddio'r fformiwla i ganfod os oes ganddo enw cemegol.

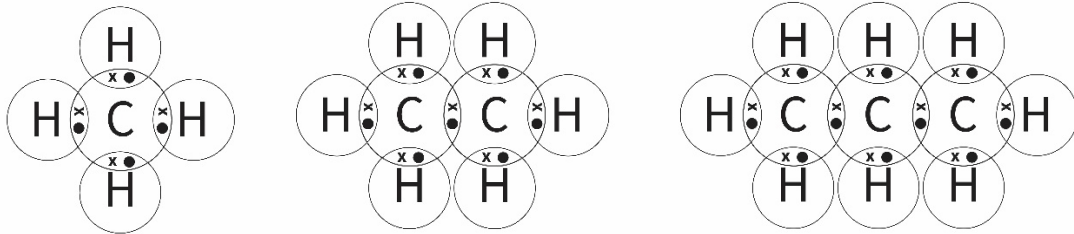
Tasg 2: Moleciwlau cofalent syml

Enw'r moleciwl	Fformiwla	Lluniadwch y diagram dot a chroes
Dŵr	H ₂ O	
Asid hydroclorig	HCl	
Carbon deuocsid	CO ₂	
Methan	CH ₄	
Nitrogen	N ₂	
Amonia	NH ₃	
Gweithgaredd estyn: Enw'r moleciwl	Fformiwla'r moleciwl	Unrhyw gyfansoddyn cofalent syml a wnaed gyda'r teils e.e. O ₂ , C ₂ H ₄ , NOH ac ati

Tasg 3: Hydrocarbonau

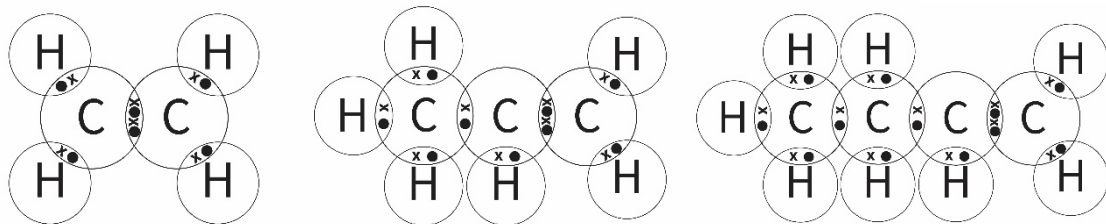
Alcanau

1. amherthnasol
2. Gweler y tabl
- 3.



Alcenau

4. Mae cyfres homologaidd alcenau yn cynnwys bond dwbl carbon-carbon. Allwch chi ddim cael bond dwbl carbon-carbon mewn moleciwl sydd â dim ond un atom carbon.
5. Gweler y tabl
- 6.

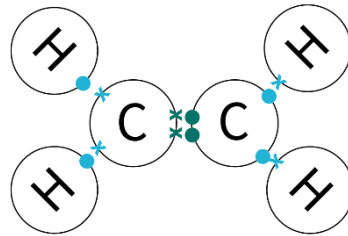


Cyfres alcanau	Fformiwla	Cyfres alcenau	Fformiwla
Methan	CH ₄		
Ethan	C ₂ H ₆	Ethen	C₂H₄
Propan	C₃H₈	Propen	C ₃ H ₆
Bwtan	C₄H₁₀	Bwten	C₄H₈
Pentan	C₅H₁₂	Penten	C₅H₁₀
Hecsan	C ₆ H ₁₄	Hecsen	C₆H₁₂
Heptan	C₇H₁₆	Hepten	C₇H₁₄
Octan	C₈H₁₈	Octen	C ₈ H ₁₆
Nonan	C₉H₂₀	Nonen	C₉H₁₈
Decan	C ₁₀ H ₂₂	Decen	C₁₀H₂₀

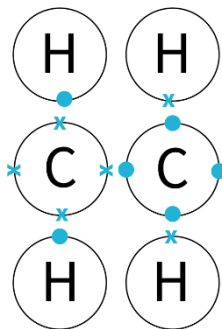
7. Dylai'r dysgwyr sylwi ar y patrymau sy'n arwain at fformiwla gyffredinol yr alcanau (C_nH_{2n+2}) a'r alcenau (C_nH_{2n}).

Tasg 4: Polymeru

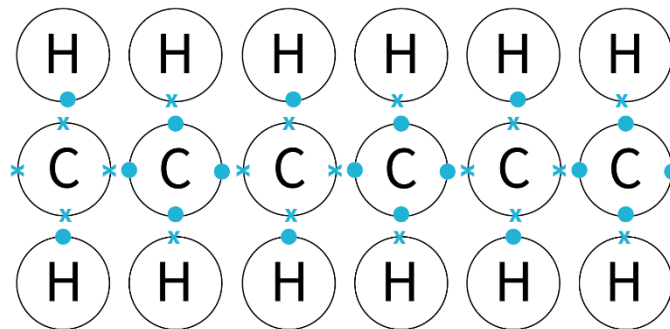
1.



2.



3.



4. Mae enghraifft o fideo stop-symudiad gan ddefnyddio'r teils bondio cofalent o'r adnodd hwn ar gael yn rsc.li/3eiWEVv.